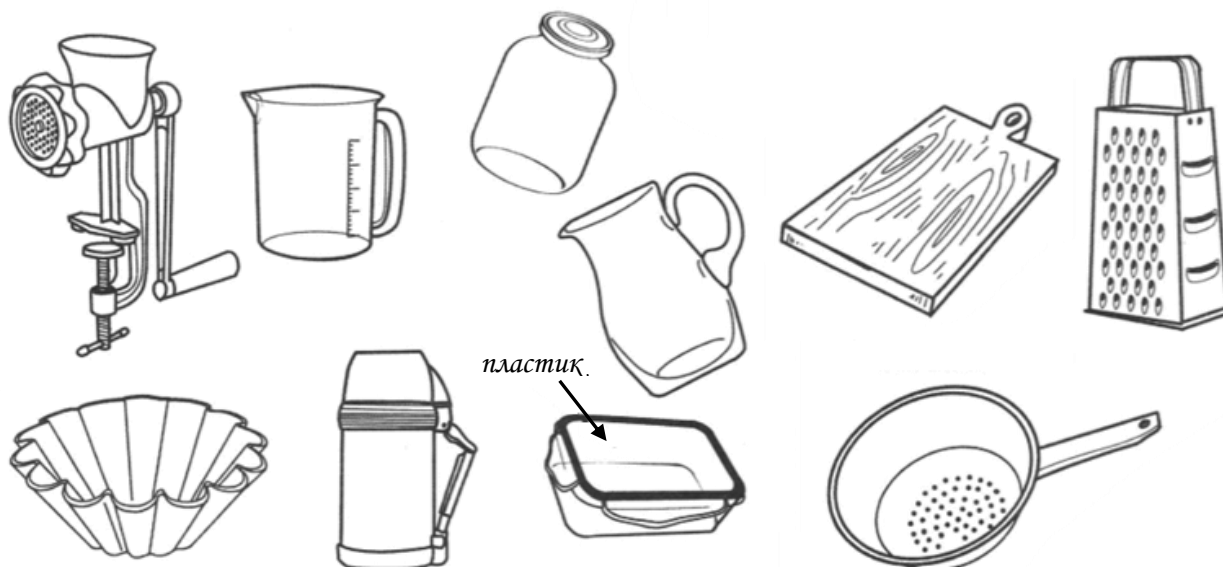


ВАРИАНТ 1

Часть 1

Задание 1. Внимательно рассмотри рисунки предметов. Это изображения кухонных принадлежностей. Стрелкой с надписью «пластик» отмечен контейнер для хранения продуктов, который может быть сделан из этого материала. По образцу отметь любой предмет, который может быть сделан из стекла и любой предмет, который может быть сделан из металла.



Задание 2. Внимательно рассмотри карту. На ней тёмным цветом выделен материк.



А) Как называется этот материк? Запиши его название.

Ответ: _____.

Б) Напиши название материка, на котором находится наша страна.

Ответ: _____.

Задание 3. Внимательно изучи по таблице прогноз на трое суток.

	19 июня, вторник	20 июня, среда	21 июня, четверг
	Н. У. Д. В.	Н. У. Д. В.	Н. У. Д. В.
Облачность и атмосфер- ные осадки			
Температура, °С	18 20 20 19	18 20 22 22	20 21 24 23
Ветер	 СЗ СЗ С С	 ЮВ Ю Ю Ю	 В В В В
Влажность воздуха, %	76 81 80 64	69 83 57 57	50 81 68 74

Обведи номер одного **неверного** утверждения о погоде на эти трое суток:

- 1) В среду вечером будет солнечно.
- 2) Самое высокое значение температуры, которое ожидается за трое суток – это 24 °С.
- 3) В четверг ветер будет менять направление в течение суток.
- 4) Влажность воздуха во вторник утром будет выше, чем ночью.

Задание 4. В каждом случае к началу фразы подбери её продолжение так, чтобы верно составить правило: для этого к каждой позиции первого столбца подбери соответствующую позицию из второго столбца, соединив их стрелкой.

Чтобы избежать инфекций в полости рта

следует выпить стакан тёплого молока.

Чтобы быстрее заснуть,

желательно делать массаж.

нужно полоскать рот после еды и регулярно чистить зубы.

Задание 5. Внимательно рассмотри рисунки.

На рисунке слева стрелкой указан орган чувств, который позволяет человеку различать запахи. Рядом со стрелкой записано название этого органа и название чувства, которое доступно человеку с его помощью.




На рисунке справа укажи стрелкой орган чувств, который позволяет человеку различать звуки. Запиши рядом со стрелкой название этого органа и название чувства, которое доступно человеку с его помощью.

Задание 6.

Ученики 4 класса проводили опыты с целью изучения свойств воды. Они хотели выяснить, влияет ли температура окружающей среды на скорость, с которой вода из твёрдого состояния полностью переходит в жидкое.

Ребята взяли два стеклянных стакана и в каждый положили по одинаковому кубику льда. Один стакан они оставили на парте, другой поставили на батарею.



А). Сравни условия проведения эксперимента в двух разных стаканах. Подчеркни в каждой строке слово, которое верно отражает эти условия:

Масса вещества, используемого
для эксперимента, в каждом стакане: **одинаковая / различная**

Температура окружающей среды: **одинаковая / различная**

Б). Запиши, какие измерения и сравнения нужно провести, чтобы определить, как температура окружающей среды влияет на скорость, с которой лёд полностью переходит в жидкое состояние.

Ответ: _____

Часть 2

Задание 7. На рисунках изображены знаки, которые можно встретить в библиотеке. Рассмотрите их внимательно и подумайте, какое правило может отражать каждый из представленных знаков. Напишите эти правила.



1



2



3

Правило 1. _____

Правило 2. _____


Правило 3. _____

Задание 8. Люди разных профессий используют в своей работе различные принадлежности.

Рассмотрите изображения, определите профессии людей, которым для работы требуются эти предметы.



1



2



3

Выбери любой рисунок, обведи его номер.

А). Запиши название выбранной профессии.

Ответ: _____

Б). Опиши работу, которую выполняют люди этой профессии.

Ответ: _____

В). Напиши, чем эта работа полезна обществу.

Ответ: _____

Задание 9. Ежегодно 5 октября в нашей стране и во всём мире отмечается Всемирный день учителя. Подумай, чем важен этот праздник для каждого человека. Напиши ответ объемом до пяти предложений.

Ответ: _____

Задание 10.

А). Запиши название региона (края), в котором ты живешь.

Ответ: _____.

Б). Запиши название населенного пункта (города, села, посёлка), в котором ты живёшь.

Ответ: _____.

